

Remerciements :

- Aux élèves de la classe de CE2—CM1 de Magnac-Bourg 2021-2022
- À M. Gourcerol, journaliste à kaolin FM pour son aide à la réalisation de ce projet
- À la mairie de Magnac-Bourg
- À l'USEP 87



- à la porte de mon école -

À la découverte du patrimoine magnacois

Localisation : Magnac-Bourg

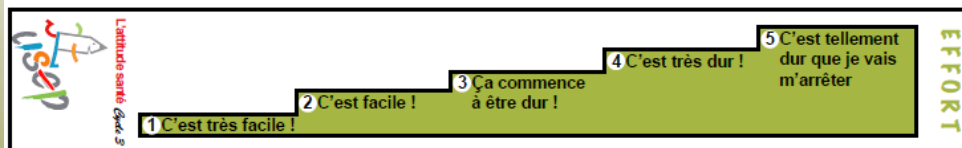
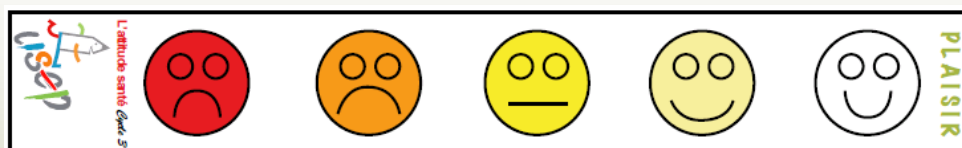
Longueur: 2km

Temps: 1h

Difficulté: facile



Evalue ton ressenti suite à cette randonnée:



Descriptif du parcours :

Au départ de l'école (point 1) :

Prendre à droite puis prendre la première rue à droite sur l'impasse de la Chapelle. Continuer jusqu'au point 2.

Poursuivre sur la route jusqu'à la petite place de la Chapelle, puis prendre sur la droite le petit chemin bordé de murets.

Arrivé derrière l'église (point 3), observer les vitraux. (Activité 1)

Longer l'église en direction de la rue principale. Prendre à droite jusqu'au point 4.

Prendre la rue Paul Renaudie, à gauche, puis bifurquer à droite sur le passage Smigiesky, qui mène à la place des docteurs Donnet. (point 5)

Rejoindre la rue principale et tourner à droite. Emprunter la rue principale pendant quelques mètres puis traverser pour vous rendre au monument aux morts (point 6) (Activité 2)

Emprunter l'escalier qui mène à la place Albert Pestour (point 7)

Quitter la place et prendre à gauche pour rejoindre le point 8.

Traverser le champ de foire pour vous rendre au point 9. (Activité 3)

Revenir sur vos pas en longeant l'étang (point 10 / activité 4) puis se diriger vers le rond-point.

Prendre à gauche jusqu'au point 11.

Revenir sur vos pas et contourner le rond-point par la gauche pour rejoindre la route du Bois d'amour et s'engager dans l'allée des sycomores.

Rester sur l'allée des sycomores pour rejoindre la rue principale.

Activités :

Activité 1 (point 3)

Combien y a-t-il de vitraux sur l'église ?

Activité 2 (point 6)

Comment s'appelle la place où se trouve le monument aux morts ?

Activité 3 (point 10)

A quoi servaient les barres métalliques qui entourent le terrain près de l'étang ?

Activité 4 (point 15)

Quels sont les deux métiers représentés par les épis de faïtage sur le toit ?

Activité 5 (point 15)

Pendant la balade, nous vous avons déjà parlé d'un potier qui réalisait des épis de faïtage. Quel est son nom ?

2) Le square de la mémoire

3) Elles servaient à attacher les animaux (vaches, taureaux, moutons chèvres...) pendant les foires ou le comice agricole. On appelle d'ailleurs cet endroit le champ de foire !

4) Un cuisinier et un coffreur (les deux métiers exercés par le patron du restaurant)

5) Il s'agit de Monsieur Smigiesky.



Traverser la route nationale et prendre à gauche.

Suivre la signalétique en kaolin et argile, réalisée par les élèves de l'école. Elle vous mènera jusqu'au Grand Chêne. (point 12)

Après avoir admiré le Grand Chêne, continuer tout droit dans le lotissement pour rejoindre le point 13.

Sortir du lotissement en prenant à droite au stop.

Continuer tout droit jusqu'au point 14, en prenant garde aux véhicules empruntant cet itinéraire.

Poursuivre sur quelques mètres et observer une spécialité de Magnac-Bourg sur le toit du point 15. (Activités 5 et 6)



POINT 14

Le lavoir

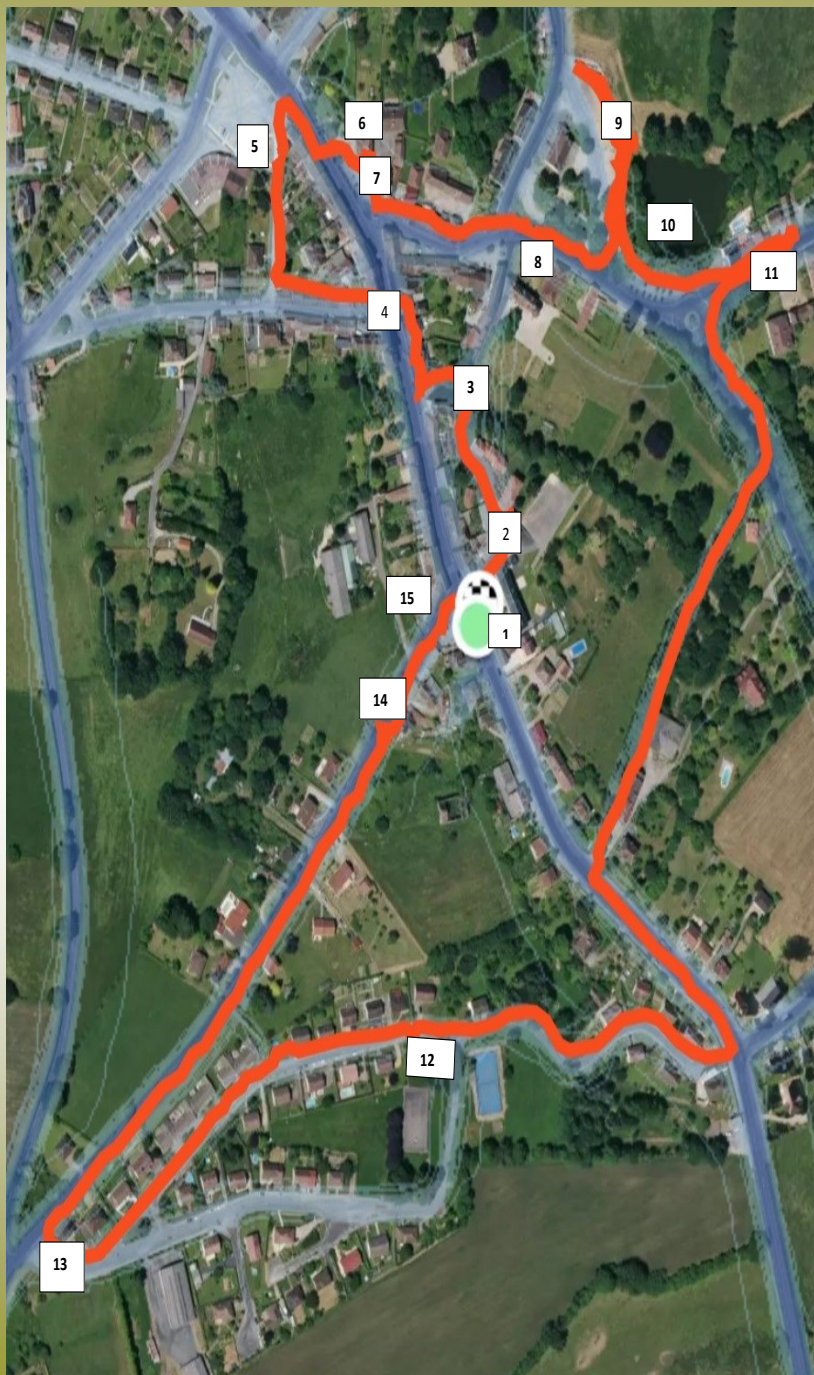


POINT 15

Les épis de faitage



Carte de la randonnée :



POINT 12

Le grand chêne



POINT 13

Le château d'eau



Les points remarquables :



POINT 9
L'aire de jeux

POINT 1
L'école



POINT 10
L'étang



POINT 2
L'ancienne école




POINT 11
Le château de Lostende



POINT 3
L'église



POINT 4
La maison aux 2 tourelles

POINT 7
La tour des pompiers




POINT 7
L'ogive de l'ancien grenier d'abondance




POINT 5
La place de Docteurs Donnet




POINT 6
Le monument aux morts




POINT 8
Le château de la Bastide

